

TRABALHO DE RECUPERAÇÃO FINAL 2023

ALUNO (A): _____ TURMA: _____

VALOR: 40,0 Nota: _____

INSTRUÇÕES: Todas as questões devem ser respondidas a CANETA.

QUESTÃO 01. “A globalização da produção transformou algumas metrópoles em centros da economia internacional. Esses centros urbanos formam uma rede urbana por onde transita a maior parte do capital que circula pelos mercados financeiros mundiais. São as empresas sediadas nestes centros que lançam inovações tecnológicas e comandam os serviços especializados para a indústria, como a publicidade e o marketing”

(GUIMARÃES et al., 2007).

Como esses centros urbanos são denominados? Apresente suas características.


QUESTÃO 02. A mundialização da economia capitalista é um processo que se intensifica nos dias atuais. A formação dos grandes monopólios capitalistas, denominados transnacionais que operam a unificação mundial do capital em diferentes localidades, é a expressão moderna da etapa monopolista do capital mundial como demonstra a figura abaixo.



Imagem associada para resolução da questão. Fonte: Brasilescola, 2010

Sobre os blocos econômicos comerciais, apresente suas principais características dos 8 principais blocos econômicos.

QUESTÃO 03. Analise a charge a seguir.

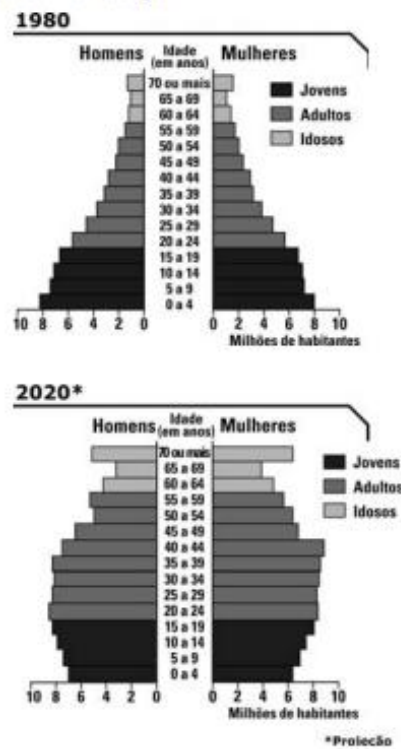


Sobre o Brexit, apresente as suas principais características.

QUESTÃO 04. Leia o texto e analise os gráficos a seguir.

Estamos vivendo uma nova fase na história, uma mudança no patamar da presença humana na Terra. O crescimento explosivo da população, que nos levou ao presente marco de 7 bilhões de pessoas, com a atual projeção de 10 bilhões em meados do século XXI, é uma realidade histórico-social de pouco mais de 200 anos.

museudoamanha.org.br



IBGE. Anuário Estatístico do Brasil. 1998 e 2014

biblioteca.ibge.gov.br

Imagem associada para resolução da questão

Com base nos gráficos e nos conhecimentos sobre a evolução da estrutura etária brasileira, o que é possível analisar?

QUESTÃO 05. Observe os gráficos a seguir:

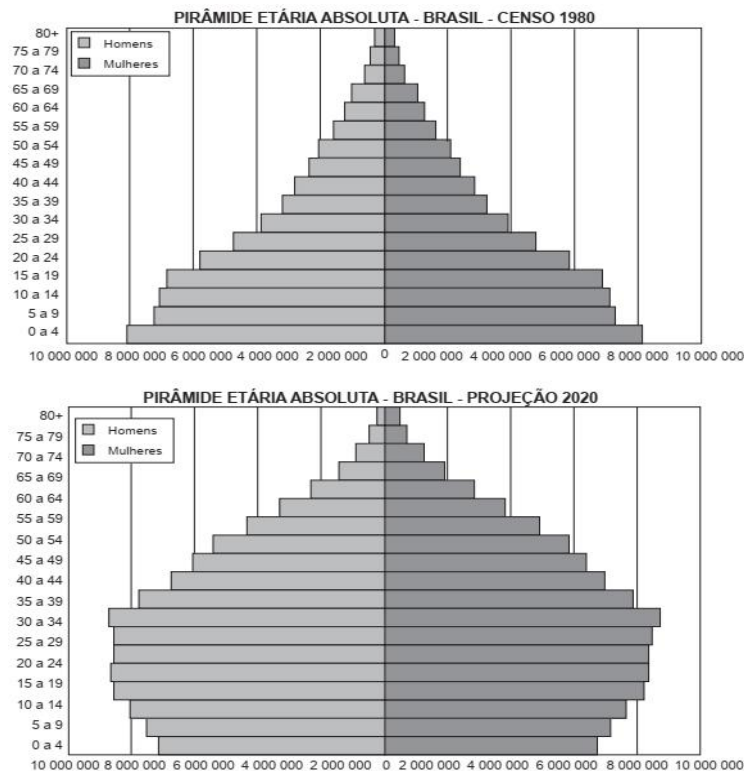


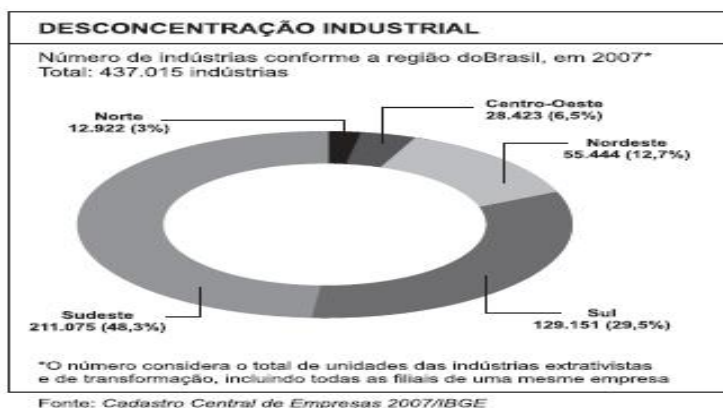
Imagem associada para resolução da questão- IBGE. Censo Demográfico - 1980. Disponível em: www.ibge.gov.br. Acesso em: 8 jul. 2015.

Qual é a transformação verificada entre a pirâmide demográfica de 1980 e a sua projeção para 2020 ?

QUESTÃO 06. A Revolução Industrial ocorrida na Inglaterra integra o conjunto das “Revoluções Burguesas” do século XVIII, responsáveis pela crise do Antigo Regime, na passagem do capitalismo comercial para o industrial. Os outros dois movimentos que a acompanham são a Independência dos Estados Unidos e a Revolução Francesa, que, sob influência dos princípios iluministas, assinalam a transição da Idade Moderna para a Contemporânea. Em seu sentido mais pragmático, a Revolução Industrial significou a substituição da ferramenta pela máquina e contribuiu para consolidar o capitalismo como modo de produção dominante. Esse momento revolucionário, de passagem da energia humana para motriz, é o ponto culminante de uma evolução tecnológica, social e econômica, que vinha se processando na Europa desde a Baixa Idade Média. (A REVOLUÇÃO... 2016).

O processo de industrialização brasileira se desenvolveu lentamente, em etapas, faça um parágrafo dissertativo apresentando a evolução do processo industrial brasileiro.

QUESTÃO 07. Observe o gráfico a seguir,



Quais são os principais fatores da desconcentração industrial? Por que algumas regiões sofreram mais com essa desconcentração em relação a outras?

QUESTÃO 08. Julgue as afirmativas a seguir como V se **VERDADEIRAS** e F se **FALSAS**.

- () A industrialização brasileira foi tardia como substituta de importações.
- () A industrialização no Brasil passou a ganhar força a partir da década de 1930, com a ascensão do governo de Getúlio Vargas, através da criação de empresas estatais como a Companhia Siderúrgica Nacional e a Companhia Vale do Rio Doce.
- () Durante o governo de Juscelino Kubitschek (1956-1961), o país vivenciou forte onda de industrialização, impulsionada pelo Plano de Metas, que pretendia promover rápido crescimento para o país com forte investimento estrangeiro. Seu slogan era “50 anos em 5”.
- () A região Sudeste concentrou a maior parte da indústria brasileira. Até a década de 1930, o país era agrário-exportador e o seu principal produto era o açúcar. Com sua desvalorização no mercado internacional, direcionaram-se os investimentos de empresas estrangeiras, para a indústria.

Faça a correção de uma afirmativa Falsa justificando sua análise.

QUESTÃO 09. A disseminação da covid-19 no estado de São Paulo e no Paraná, em especial na região metropolitana de Curitiba, Londrina e Maringá, leva à confirmação de que a dispersão do vírus está inserida na lógica das redes e da hierarquia urbana. A propagação do vírus encontra meio fecundo nas concentrações populacionais, logo as cidades acabam sendo evidenciadas pela facilidade com que o processo se dá. Se pensarmos na rede urbana de Londrina, os casos de covid-19 se concentram em maior número no município londrinense e nos centros sub-regionais. No que tange à região de Maringá, os casos estão concentrados principalmente nos municípios inseridos na área de maior concentração populacional.

J. T. Verzezi e T. M. de Liz. A disseminação da covid-19, rede urbana e metropolização. In: R. L. Töws, S. T. Malysz e A. M. Endlich (org.). Pandemia, espaço e tempo: reflexões geográficas. Paraná: Ed. Maringá, 2020 (com adaptações).

A rede urbana pode ser definida como a interligação entre as cidades que se estabelece a partir dos fluxos de pessoas, mercadorias, capitais e informações. Em cada rede urbana, identifica-se uma hierarquia. Acerca desse assunto, julgue o item seguinte, considerando as informações do texto anterior.

Conforme a hierarquia urbana descrita no texto, Curitiba ocupa o topo de uma rede urbana, ou seja, não está subordinada a nenhuma outra cidade e, em conjunto com Londrina e Maringá, cobre todo o país com suas regiões de influência.

Julgue as afirmativas apresentadas como verdadeiras ou falsas, em seguida apresente as principais características da Urbanização que foram citadas no trechos.

QUESTÃO 10.



[...] Os problemas na Ucrânia começaram em novembro, quando multidões foram às ruas da capital ucraniana, Kiev, para pressionar o então presidente ucraniano, Viktor Yanukovich, a fechar um acordo comercial com a União Europeia em detrimento de um com a Rússia.

Yanukovich, que é de etnia russa e só aprendeu a falar ucraniano na vida adulta, acabou dando as costas à UE e fechando com Moscou, que lhe prometeu um pacote de ajuda financeira incluindo um empréstimo bilionário e desconto no preço do gás natural.[...]

Folha de São Paulo, 07/03/2014. Mundo.

Analise as afirmações sobre a disputa pela Crimeia entre Ucrânia e Rússia, e em seguida, assinale a alternativa correta. V **VERDADEIRA** ou F **FALSA**

- () A Rússia tem uma ligação histórica com a península desde a época de Catarina a Grande, no século XVIII, quando os russos conquistaram o sul da Ucrânia e a Crimeia, tomando a região do Império Turco-Otomano. Em 1954, a Crimeia foi presenteada à Ucrânia pelo líder soviético Nikita Khrushchev, de origem ucraniana.
- () Após o Parlamento da Crimeia adotar uma declaração de independência da Ucrânia e antes mesmo de um referendo onde os eleitores viriam a aprovar a reunificação do território como membro da Federação da Rússia, a Crimeia anunciou o fechamento de espaço aéreo para voos comerciais.
- () As primeiras reações das potências ocidentais após o presidente russo Vladimir Putin confirmar a anexação da Crimeia foram: suspensão das licenças de exportação de armas do Reino Unido para a Rússia e a suspensão da Rússia na reunião do G8. Além disso, sanções econômicas dos Estados Unidos levaram Visa e Mastercard a deixarem de servir, sem aviso prévio, clientes de bancos russos.

Escolha uma **FALSA**, se houver, e faça a correção necessária.

QUESTÃO 11. A partir de 1948, o Partido Nacional, no poder na África do Sul, entregou-se à tarefa de transformar a separação em bases raciais — já existente na sociedade sul-africana — num complexo sistema legal e no fundamento real do Estado. Essencialmente preocupado em frear e impedir a vinda dos negros para as cidades, o governo branco iniciou a montagem do apartheid (apart- -heid, “desenvolvimento separado”).

LOPES, Marta Maria. O apartheid. São Paulo: Atual, 1990, p. 41. (Adaptado).

O apartheid, cujo desmantelamento contou com a histórica liderança de Nelson Mandela, estava originalmente relacionado a quais características principais?

QUESTÃO 12. A urbanização acelerada dos países subdesenvolvidos, é articulado com o êxodo rural e a metropolização geradno um fenômeno importante para as cidades, caracteriza qual fenômeno? Explique-o e apresente suas consequências.

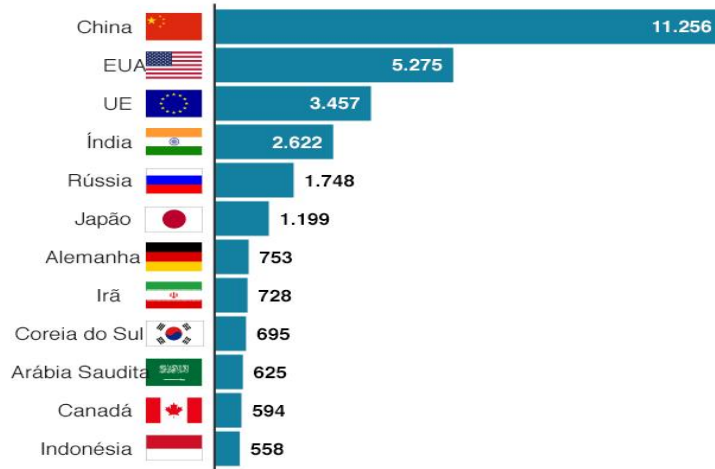
QUESTÃO 13. Com base nos conceitos de urbanização, discuta os principais fatores que impulsionam esse processo e os impactos resultantes nas áreas urbanas. Aborde questões como o crescimento populacional, a industrialização, as mudanças nos padrões de ocupação do solo, a infraestrutura urbana e as transformações socioeconômicas associadas à urbanização.

QUESTÃO 14. Observe o gráfico a seguir.

Analise os impactos do aumento populacional nas últimas décadas, considerando tanto os desafios quanto as oportunidades que esse fenômeno apresenta. Discuta os efeitos sobre a demanda por recursos naturais, a pressão sobre os serviços públicos, a infraestrutura urbana e a capacidade de sustentabilidade. Além disso, explore as implicações sociais, econômicas e ambientais do crescimento populacional, levando em consideração as disparidades regionais.

QUESTÃO 15. Observe o gráfico a seguir.

Os maiores emissores de dióxido de carbono do mundo
Megatoneladas de CO2 por ano



Nota: Uma megatonelada = 1.000.000 toneladas

Fonte: EC, Emissions Database for Global Atmospheric Research, 2018



Analise a interconexão entre os processos industriais e os problemas ambientais, destacando como as atividades industriais podem contribuir para questões como poluição atmosférica, contaminação da água e do solo, além do esgotamento de recursos naturais.

QUESTÃO 16. Observe o mapa a seguir.

Primavera Árabe

REVOLTAS
GOVERNOS QUE JÁ CAIRAM

- Tunísia**
Foi o primeiro país "contaminado" pela Primavera Árabe. O ditador Zine El Abidin Ben Ali não suportou a revolta popular e deixou o poder depois de 23 anos de reinado. Eleições para a escolha de um novo líder serão realizadas no dia 23 de outubro. Ben Ali foi condenado a 35 anos de prisão.
- Egito**
O país sofreu uma das revoltas mais violentas vistas nesta Primavera Árabe, com mais de 850 mortos. Hosni Mubarak foi obrigado a deixar o poder, que ostentava desde 1981 – atualmente, o ex-presidente está internado, e seu estado de saúde é um mistério. Eleições para presidente devem ocorrer até novembro.
- Libia**
A revolta contra o ditador Muamar Kadhafi começou em março. No comando desde 1969, ele resistiu e lançou um violento ataque aos rebeldes. A situação obrigou a intervenção da Otan, que assumiu uma operação de ofensiva. As batalhas continuam e Kadhafi segue livre, embora mais enfraquecido.
- Síria**
Várias manifestações no país contra Bashar Assad, que está no poder desde 2000. O regime tenta conter os manifestantes com violência. O número de mortos é incerto – a estimativa é de cerca de 1500 mortos.
- Iêmen**
O presidente Ali Abdullah Saleh está há 33 anos no poder. Ele se recupera de um ataque sofrido no palácio presidencial, em que ficou com parte do corpo queimado. O país está em crise e o futuro político é incerto.
- Bahrein**
Manifestantes tentaram derrubar o rei Hamad Ben Isa al-Khalif, no poder desde 1999. Porém, as manifestações foram contidas pelo governo depois de reforços no número de soldados enviados pela Arábia Saudita. O rei prometeu um diálogo com a oposição para discutir reformas políticas.
- Argélia**
O país registrou vários protestos para tentar derrubar Abdelaziz Bouteflika, no poder há 12 anos. Como resposta, o presidente promoveu o fim do estado de emergência e adotou medidas em favorcimento do povo para tentar diminuir a pressão. Atualmente, a situação é mais tranquila.
- Jordânia**
As revoltas também chegaram ao país, que tem o rei Abdullah 2º no poder desde 1999. As revoltas começaram em janeiro. Acuada, o rei prometeu realizar reformas para um sistema parlamentarista, o que diminuiu um pouco a tensão.

Arte: Carlos Eduardo Diniz / Band.com.br

Analise as causas, desenvolvimentos e impactos da Primavera Árabe, que teve início em 2010. Explore os fatores socioeconômicos, políticos e culturais que desencadearam os protestos em diversos países do Oriente Médio e do Norte da África.

QUESTÃO 17. Observe o mapa a seguir.



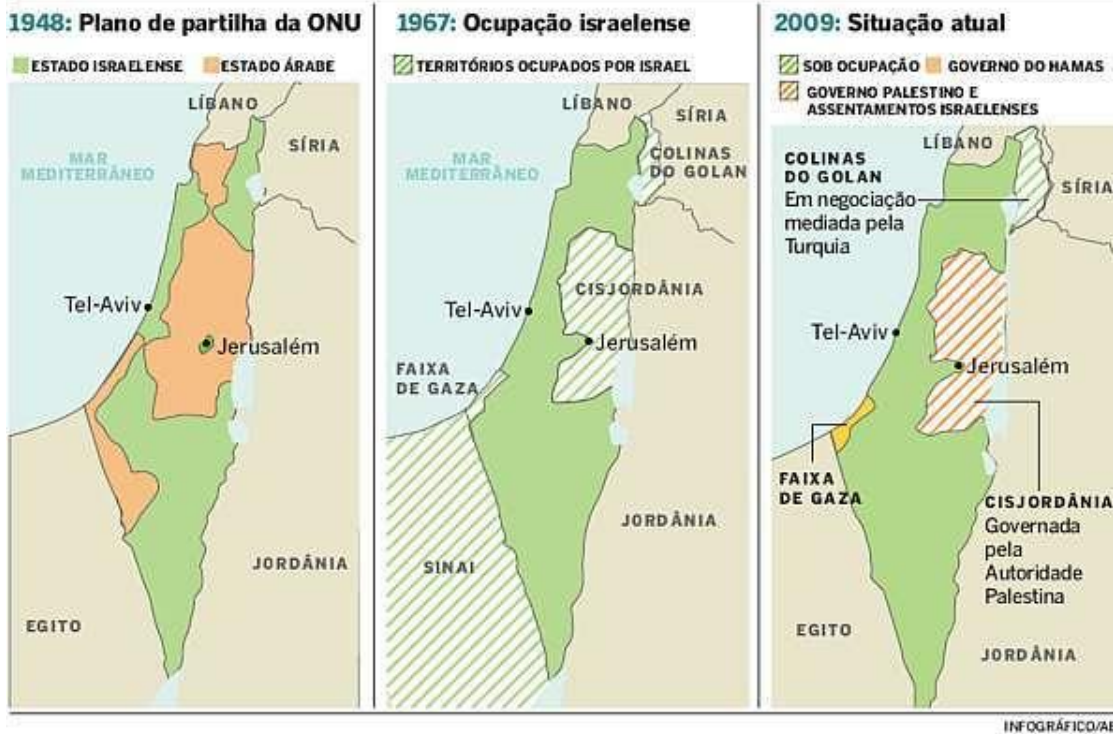
Analise as origens, desenvolvimentos e implicações da crise entre Ucrânia e Rússia. Explore os fatores históricos, étnicos e geopolíticos que contribuíram para as tensões entre os dois países. Discuta as causas imediatas da anexação da Crimeia pela Rússia em 2014 e a subsequente crise no leste da Ucrânia, destacando as motivações por trás dessas ações.

QUESTÃO 18.



Analise a complexa disputa territorial envolvendo a Caxemira, destacando os contextos históricos, políticos e culturais que contribuíram para essa questão. Discuta as diferentes reivindicações de soberania por parte da Índia, do Paquistão e da China sobre a região e como essas disputas têm impactado a estabilidade na região do sul da Ásia.

QUESTÃO 19.



Analise a situação da Palestina, considerando os desafios políticos, sociais e humanitários enfrentados pela população palestina. Explore o contexto histórico do conflito israelo-palestino, abordando as diferentes perspectivas sobre a questão, e discuta como as disputas territoriais, a ocupação e as tensões políticas têm impactado a vida cotidiana dos palestinos. Além disso, examine o papel da comunidade internacional na busca por uma solução justa e duradoura para o conflito, incluindo iniciativas diplomáticas, organizações internacionais e a influência de atores regionais.

QUESTÃO 20. Analise as dinâmicas da geopolítica internacional contemporânea, considerando fatores como rivalidades entre potências, alianças estratégicas e desafios globais. Explore como as mudanças econômicas, tecnológicas e sociais têm influenciado as relações entre os Estados, destacando eventos recentes que moldaram a geopolítica mundial. Cite o Apartheid como exemplo e apresente suas consequências.
