

TRABALHO DE RECUPERAÇÃO - 3º TRIMESTRE 2023

ALUNO (A): _____ TURMA: _____

VALOR: 16,0 Nota: _____

INSTRUÇÕES: Todas as questões devem ser respondidas a CANETA.

QUESTÃO 01. De todas as transformações impostas pelo meio técnico-científico-informacional à logística de transportes, interessa-nos mais de perto a intermodalidade. E por uma razão muito simples: o potencial que tal “ferramenta logística” ostenta permite que haja, de fato, um sistema de transportes condizente com a escala geográfica do Brasil.

HUERTAS, D. M. O papel dos transportes na expansão recente da fronteira agrícola brasileira. Revista Transporte y Territorio, Universidade de Buenos Aires, n. 3, 2010 (adaptado).

A necessidade de modais de transporte interligados, no território brasileiro, justifica-se pela(s) por quais fatores?

QUESTÃO 02.

(Fonte: <http://www2.transportes.gov.br/bit/05-mar/cabotagem.html>.)

Qual a importância do papel da cabotagem no processo de formação do território brasileiro?

QUESTÃO 03. Acabaram a União Soviética e a Guerra Fria e todos suspiramos aliviados. Mas em vez de espíritos desarmados proliferaram novos fantasmas nucleares e perdemos até a primeira condição para um tranquilizador equilíbrio de terror que é saber de que lado virão os mísseis. A crise atual no mundo é uma crise de nitidez (...). Os que insistem em reduzir tudo a um choque de civilizações querem, na verdade, reduzir tudo a outra Guerra Fria, recuperar a simplicidade de um confronto entre potências com a simplificação adicional de que desta vez só um lado é uma potência...

Luiz Fernando Veríssimo “O Globo”, 13/08/2006.

Quais são as características da atual geopolítica mundial que justificam o ponto de vista expresso pelo autor ?

QUESTÃO 04. Do ponto de vista geopolítico, a Guerra Fria dividiu a Europa em dois blocos. Essa divisão propiciou a formação de alianças antagonicas de caráter militar, como a OTAN, que aglutinava os países do bloco ocidental, e o Pacto de Varsóvia, que concentrava os do bloco oriental. É importante destacar que, na formação da OTAN, estão presentes, além dos países do oeste europeu, os EUA e o Canadá. Essa divisão histórica atingiu igualmente os âmbitos político e econômico que se refletia pela opção entre os modelos capitalista e socialista. Essa divisão europeia ficou conhecida como? Explique a importância do seu fim.

QUESTÃO 05. Chaebol e zaibatsu são palavras usadas para identificar estruturas organizacionais similares na economia da Coreia do Sul e do Japão, respectivamente.

(Priscila Helena Lee. Investimentos Coreanos no Mundo, 2011. Adaptado.)

Importantes no processo de industrialização dos países citados, as estruturas destacadas no excerto são caracterizadas por quais fundamentos?

QUESTÃO 06. Observe a imagem a seguir.



A indústria de alta tecnologia – eletrônica e informática, biotecnologia e química fina, aeroespacial e bélica – reflete, nas suas opções de localização, uma reação às aglomerações industriais. Esses setores industriais procuram novas localizações nos subúrbios afastados dos núcleos metropolitanos ou em pequenas cidades interioranas. Por

outro lado, mão de obra científica e técnica altamente qualificada e intensos investimentos de capital constituem as principais exigências para o sucesso desses empreendimentos.

Qual a região abaixo que apresenta as características do texto?

QUESTÃO 07. Leia um trecho de música a seguir:

Era um garoto que como eu- Engenheiros do Hawaii

Era um garoto que como eu
Amava os Beatles e os Rolling Stones
Girava o mundo sempre a cantar
As coisas lindas da América [...]
Cantava viva à liberdade
Mas uma carta, sem esperar
Da sua guitarra o separou
Fora chamado na América
Stop! Com Rolling Stones
Stop! Com Beatles songs
Mandado foi ao Vietnã
Lutar com Vietcongs
Tá tá tá tá tá... [...]

A música faz referência a um conflito decorrente de um importante contexto histórico. Quais o nome e quais são as principais características desse conflito?

QUESTÃO 08. A partir da década de 1970, quatro países asiáticos surpreenderam o mundo com uma expressiva industrialização. Devido às características desse processo e à localização de Cingapura, Hong Kong, Coréia do Sul e Taiwan, estes foram denominados Tigres Asiáticos.

Recentemente, esses quatro países expandiram sua economia para países vizinhos do Sudeste Asiático, agora denominados de novos Tigres Asiáticos. Sobre a economia desses países, analise as afirmativas abaixo julgado-as como V se verdadeiras e F se falsas.

- () Nos novos Tigres, devido à mão-de-obra extremamente qualificada e barata, foram instaladas indústrias de produtos de informática, microeletrônica, hardware e software.
- () Além dos investimentos dos quatro Tigres Asiáticos, os novos Tigres passaram a fazer parte das redes de negócios de empresas dos Estados Unidos, Japão e de outros países desenvolvidos.
- () Para produzir mercadorias sob encomenda, criadas e planejadas em outros lugares do mundo, surgiram milhares de pequenas empresas em cada um desses novos países. IV. As reformas políticas, sociais e econômicas implantadas e o aumento do mercado interno de consumo fortaleceram o desenvolvimento dos novos Tigres. Marque a alternativa que apresenta somente afirmativas corretas.

QUESTÃO 09. China é vista como a principal economia mundial

A China já é percebida em grande parte do mundo como a principal economia mundial, embora na realidade seja a segunda, atrás dos Estados Unidos. Segundo pesquisa de opinião publicada pela imprensa chinesa, na qual foram ouvidas por telefone mais de 26 mil pessoas de 21 países, 41% disseram que a China é a maior potência econômica mundial, enquanto 40% acreditam que são os Estados Unidos. A tendência a favor dessa imagem da China é especialmente forte na Europa, onde 58% dos britânicos têm essa percepção.

Adaptado de , 14/06/2012.

Com elevadas taxas de crescimento em seu Produto Interno Bruto nos últimos anos, a China confirma sua posição de destaque nos cenários político e econômico mundiais. Indique dois fatores que impulsionaram esse grande avanço da economia chinesa.

QUESTÃO 10.- Analise a letra da música abaixo.

Minha Alma (A paz que eu não quero)

A minha alma está armada
e apontada para a cara
do sossego
pois paz sem voz
não é paz é medo [...]
As grades do condomínio
são para trazer proteção
mas também trazem a dúvida
se não é você que está nessa prisão
me abraçe e me dê um beijo
faça um filho comigo
mas não me deixe sentar
na poltrona no dia de domingo
procurando novas drogas
de aluguel nesse vídeo
coagido pela paz
que eu não quero
seguir admitindo

Segundo os seus estudos sobre o processo de urbanização e seus efeitos, analise a música apresentando as principais consequências dos problemas urbanos explicando-os.

QUESTÃO 11. Leia as características geográficas dos países X e Y.

País X

- desenvolvido
- pequena dimensão territorial
- clima rigoroso com congelamento de alguns rios e portos
- intensa urbanização
- auto-suficiência de petróleo

País Y

- subdesenvolvido
- grande dimensão territorial
- ausência de problemas climáticos, rios caudalosos e extenso litoral
- concentração populacional e econômica na faixa litorânea
- exportador de produtos primários de baixo valor agregado

A partir da análise dessas características é adequado priorizar as diferentes modalidades de transporte de carga. Apresente os tipos de modais mais viáveis para aplicar no País X e no País Y, respectivamente.

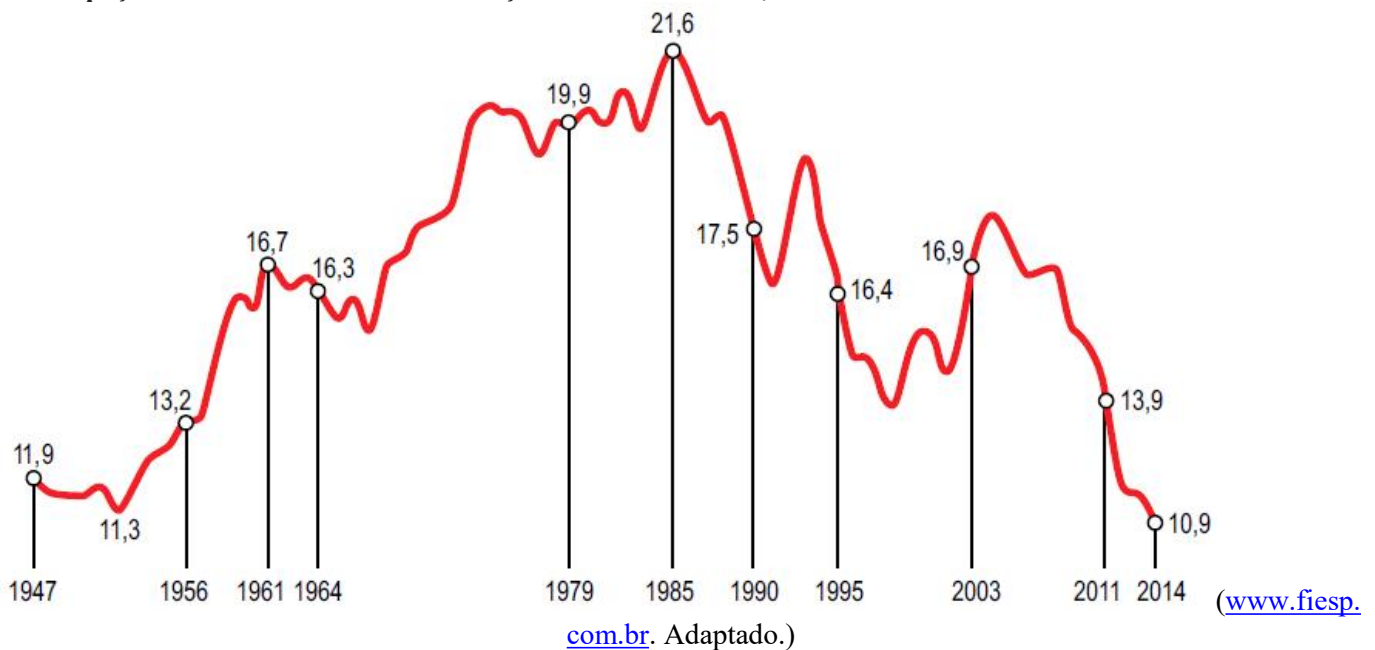
QUESTÃO 12. “Saem as economias costeiras do Brasil e da China e entra o interior dos dois países. Em vez da Índia e Rússia, estão Filipinas, Indonésia, México, Turquia e Vietnã. Serão esses os ‘novos BRICS?’”.

(Folha de São Paulo. Sérgio Dávila, “Brasil rural desponta entre novos BRICS.”, 23/09/07, p. C3)

O acrônimo BRICS se forma pela junção da primeira letra dos nomes de um grupo específico de países. Quais são esses países e qual as principais características que esses países apresentam?

QUESTÃO 14. Observe o gráfico.

Participação da indústria de transformação no PIB do Brasil, 1947-2014.



Considerando os dados do gráfico e conhecimentos sobre a dinâmica econômica do país. Apresente as principais características da evolução industrial brasileira ao longo dos anos.

QUESTÃO 13. Nasa divulga som inédito de um buraco negro;

Processo conhecido como sonificação traduziu informações coletadas pela agência espacial em ondas sonoras reais descobertas pelo telescópio espacial Chandra.

A Nasa, a agência espacial norte-americana, divulgou nesta quinta-feira (5) a sonificação de um buraco-negro (veja vídeo acima).

O processo acontece quando cientistas usam programas de computador e linguagem de programação para "traduzir" informações não audíveis pelo ser humano (nesse caso, dados astronômicos) em uma onda sonora perceptível aos nossos ouvidos. [...]

Fonte: G1,2022

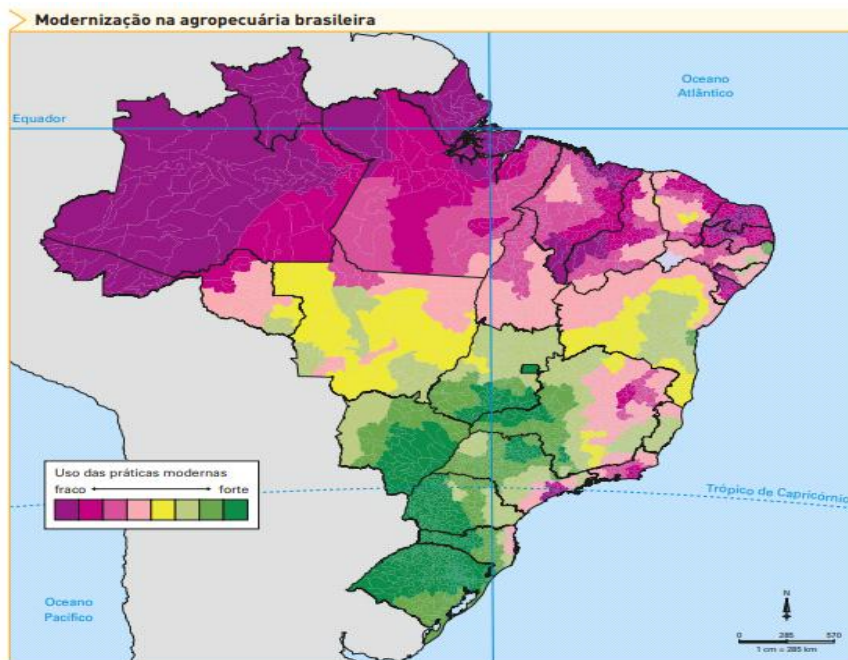
A notícia apresentada anteriormente faz parte de uma série de acontecimentos mundiais. Essa conquista, conseguir identificar o som do Buraco Negro, é um marco para a humanidade e um símbolo para o avanço do processo de Globalização. Contudo, essas tecnologias só podem ser justificadas por momentos do passado que foram fundamentais para o que temos hoje, como a Guerra-Fria.

Partindo dessas afirmações, qual foi um dos principais marcos históricos no período da Guerra-Fria que influencia a nossa realidade e quais as suas principais consequências?

QUESTÃO 15. Observe a imagem a seguir.

O que foi a Doutrina Bush? Explique os princípios gerais defendidos por ela.

QUESTÃO 16.

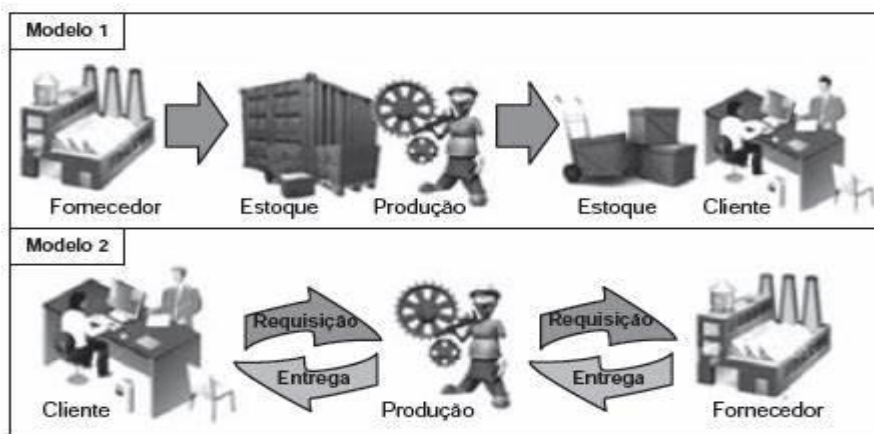


Adaptado de THÉRY, Hervé; MELLO, Neli. Atlas do Brasil: *disparidades e dinâmicas do território*. São Paulo: Edusp/Imprensa Oficial, 2008.

No Brasil, o setor agropecuário se caracteriza tanto por áreas que ainda adotam práticas tradicionais como por aquelas em que há forte presença de modernização, como se observa no mapa.

Aponte o complexo regional que concentra o uso mais intenso de práticas agropecuárias modernas e a que concentra o uso menos intenso. Em seguida, cite duas características presentes no processo de modernização agropecuária do país.

QUESTÃO 17.

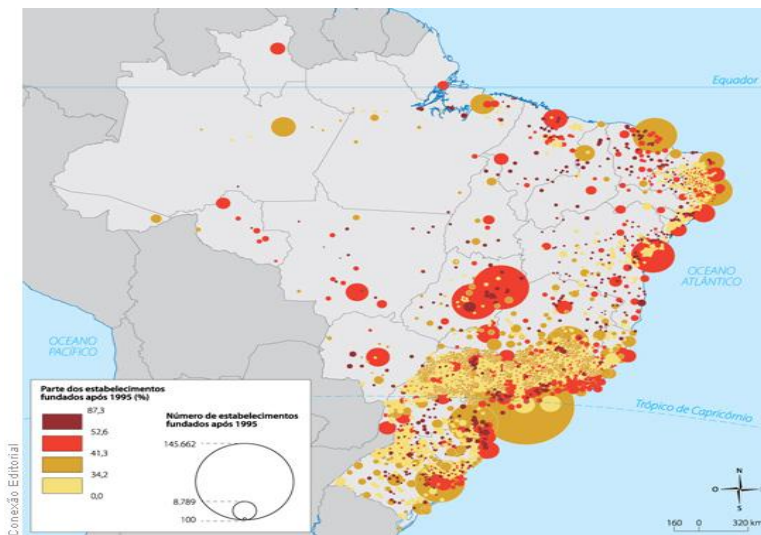


Disponível em: <http://ensino.univates.br>. Acesso em: 11 maio 2013 (adaptado).

Na imagem, estão representados dois modelos de produção. A possibilidade de uma crise de superprodução é distinta entre eles. Apresente as principais diferenças entre os dois tipos de produção apresentados nas imagens.

QUESTÃO 18. Os problemas urbanos socioambientais estão se tornando cada vez mais prevalentes nas cidades ao redor do mundo. Escolha uma cidade com a qual você esteja familiarizado ou que seja de seu interesse e discuta os principais problemas socioambientais que ela enfrenta atualmente. Analise como esses problemas afetam a qualidade de vida dos habitantes, a saúde pública e o meio ambiente. Além disso, proponha soluções ou estratégias que podem ser implementadas para minimizar esses desafios urbanos.

QUESTÃO 19. Observe o mapa a seguir:



Quais são os principais critérios para instalações de indústrias em uma região?

QUESTÃO 20. Leia a notícia a seguir.

Fracasso dos EUA no Afeganistão obriga a questionar o intervencionismo ocidental

"Os EUA não foram ao Afeganistão para construir um Estado e sim para obter vingança do 11 de setembro", disse, acrescentando que cabia a outras nações erguer o país, o Estado.

Fonte: BBC,2023

Quais interesses econômicos justificaram ações estadunidenses como o ataque ao Afeganistão e a ocupação do Iraque?
