

## TRABALHO DE ESTUDOS AUTÔNOMOS 2º TRIMESTRE 2022

ALUNO (A): \_\_\_\_\_ TURMA: \_\_\_\_\_

VALOR: 12,0 Nota: \_\_\_\_\_



lacampanelablog.files.  
 wordpress.com201401  
 lorenzetti.jpg

"Efeitos do bom governo na cidade e no campo", afresco de Ambrogio Lorenzetti (séc XIV)

### Questão 01-

Do mesmo modo que a cidade era uma figura particular das sociedades rurais no mundo medieval, atualmente, as zonas rurais são figuras particulares do universo urbano, diferenciando-se por certos aspectos da cidade propriamente dita, mas tornando-se comparáveis pelos modos de vida de seus habitantes."

(Jacques LÉVY. Réinventer la France [Reinventar a França]. Paris: Fayard. 2013, p. 53)

Tendo como referência o trecho citado, sobre o mundo urbano contemporâneo (considerado também o Brasil). Apresente as principais características e consequência desses processos.

---



---

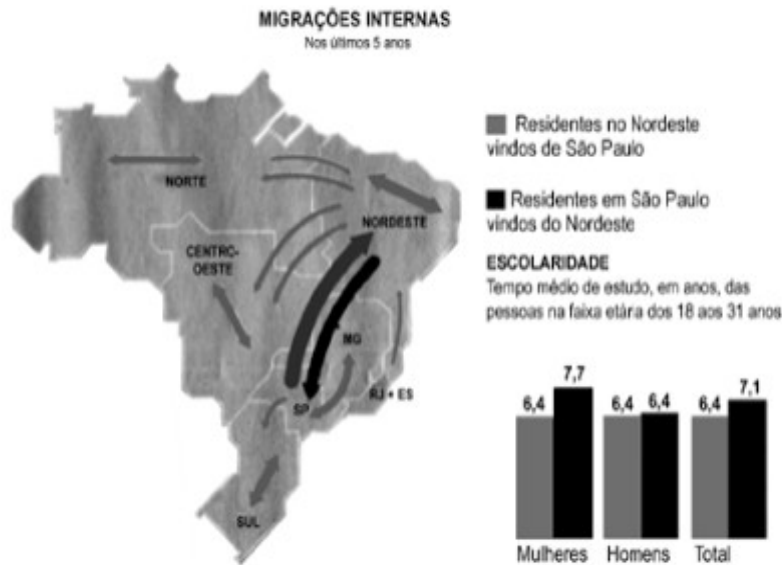
### Questão 02- Analise a letra da música abaixo.

#### Minha Alma (A paz que eu não quero)

A minha alma está armada  
 e apontada para a cara  
 do sossego  
 pois paz sem voz  
 não é paz é medo [...]  
 As grades do condomínio  
 são para trazer proteção  
 mas também trazem a dúvida  
 se não é você que está nessa prisão  
 me abrace e me dê um beijo  
 faça um filho comigo  
 mas não me deixe sentar  
 na poltrona no dia de domingo  
 procurando novas drogas  
 de aluguel nesse vídeo  
 coagido pela paz  
 que eu não quero  
 seguir admitindo

Segundo os seus estudos sobre o processo de urbanização e seus efeitos, analise a música apresentando as principais consequências dos problemas urbanos explicando-os.

**Questão 03-** Com base na análise da ilustração e nos conhecimentos sobre as migrações no Brasil, com destaque para as nordestinas, marque V para as afirmativas Verdadeiras e F para as afirmativas Falsas:

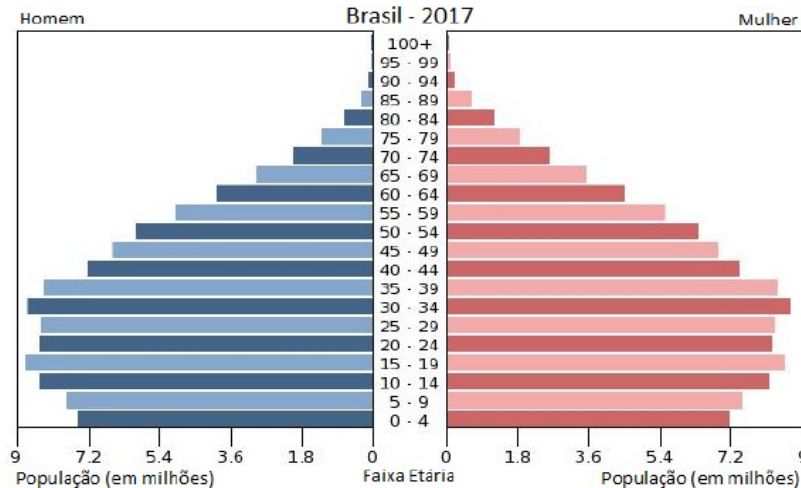


- As migrações internas no Brasil, ao longo da sua história, sempre ocorreram no sentido Centro-Oeste/Sul.
- A seca, a pobreza e a atração econômica exercida pelas outras regiões brasileiras foram os principais motivos dos fluxos migratórios extra-regionais dos nordestinos no passado.
- O Estado de São Paulo, nas últimas décadas, tem recebido grande número de migrantes, porém, já não é tão receptivo aos nordestinos quanto no passado, em virtude, sobretudo, da saturação do mercado de trabalho para a mão-de-obra não qualificada, resultando em uma migração de retorno.
- O aumento da população do Nordeste e o seu desenvolvimento econômico provocaram a formação de novos fluxos, voltados para as regiões de criação de gado do Centro-Oeste, da Amazônia e do Sul, colocando São Paulo em segundo plano, no volume de migrantes nordestinos, tendo atualmente, uma quantidade nula.
- A “migração de retorno” é formada por pessoas de mais de 50 anos, com alta escolaridade, que são atraídas pela boa qualidade de vida do Nordeste e é justificado pela fuga de cérebros.
- As grandes secas foram marcadas pela transumância realizada pelos “corumbas”, do Sertão semi-árido para o Litoral e para a Zona da Mata úmidos, onde trabalhavam geralmente em empregos sazonais ou temporários e levam por exemplo, a sua boiada em períodos de secas.

**Questão 04-** Uma ação tomada por alguns países que pode funcionar é proporcionar bolsas de estudo e empréstimos para aqueles que querem estudar em centros universitários fora do país, com a contrapartida de que, após a conclusão da faculdade, essas pessoas possam pagar ao governo voltando e trabalhando no país de origem. Desburocratizar o exercício de certas profissões e incentivar centros de excelência também pode ajudar.

As medidas governamentais descritas buscam conter a ocorrência de qual tipo de migração? Por que o governo precisa investir nessas medidas?

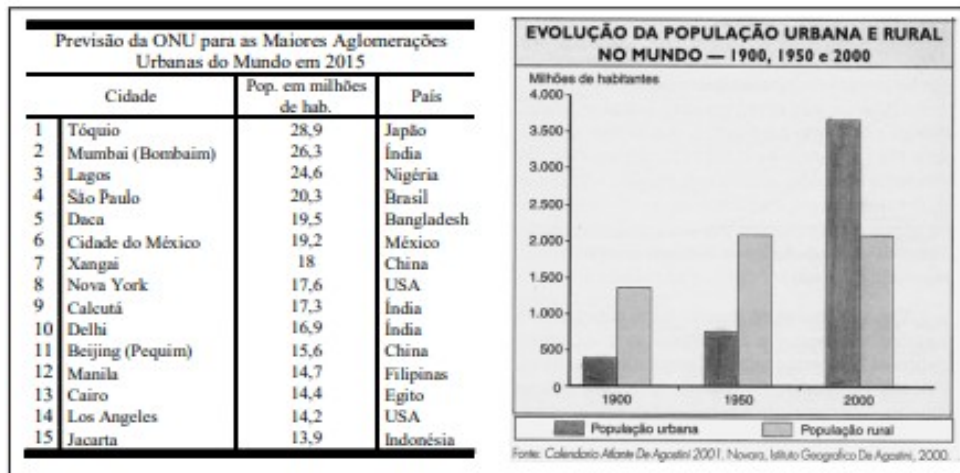
**Questão 05-** O gráfico a seguir, uma pirâmide etária, representa a estrutura da população brasileira por idade e sexo. Observe-o.



Adaptado de United States Census Bureau. Disponível em: <<https://www.census.gov/population/international/data/idb/>>. Acesso em: 09 maio 2017.

A partir do gráfico anterior, apresente as principais características da População brasileira e quais são as projeções futuras para as pirâmides do Brasil.

**Questão 06-** Observe e compare o mapa da questão anterior com o gráfico e o quadro ao lado, e, com base na observação destes, assinale a leitura plausível a partir das referidas figuras e dados. Em seguida, julgue os itens como V (Verdadeiras) ou F (Falsas) e escolha uma afirmativa Falsa e CORRIGE-A.



- ( ) O século XX apresentou o mais rápido processo de urbanização conhecido pela humanidade, fazendo com que ao final deste período a população mundial já fosse, em sua maioria, urbana.
- ( ) As megacidades com mais de dez milhões de habitantes se concentram majoritariamente nos países onde o processo de industrialização clássica favoreceu a urbanização acelerada e uma rede urbana macrocefálica, não existindo em países subdesenvolvidos, por exemplo.
- ( ) Os países subdesenvolvidos, em grande parte agrários, apresentam um crescimento mais acelerado das suas metrópoles que os países centrais mais urbanizados, motivo pelo qual o maior número de megacidades tende a se intensificar nesse grupo de países.
- ( ) O crescimento explosivo das cidades no terceiro mundo transfere a pobreza presente no campo para suas metrópoles, cujo crescimento é concomitante com a falta de infraestrutura, desemprego ou subemprego, aumento da violência, surgimento de favelas e outros tantos problemas geralmente denominados de urbanos. Imagem associada para resolução da questão .

Correção:

**Questão 07-** Observe a charge a seguir:



Disponível em: <<https://josiasdesouza.blogosfera.uol.com.br/2019/10/18/desigualdade/>>. Acesso em: 05 set. 2020.

A charge apresenta duas realidades diferentes de países em um mesmo planeta: o primeiro está relacionado aos países desenvolvidos e o segundo aos países subdesenvolvidos. Os dois possuem características específicas que explicam como organizaram o seu território a partir da Industrialização e Urbanização. Explique a diferença do processo de Industrialização entre esses tipos de países e quais as principais consequências urbanas resultantes desse processo.

**Questão 08-** Leia o texto a seguir:

[...]

Somos muitos Severinos

iguais em tudo e na sina:

a de abrandar estas pedras

suando-se muito em cima,  
 a de tentar despertar  
 terra sempre mais extinta,  
 a de querer arrancar  
 algum roçado da cinza.

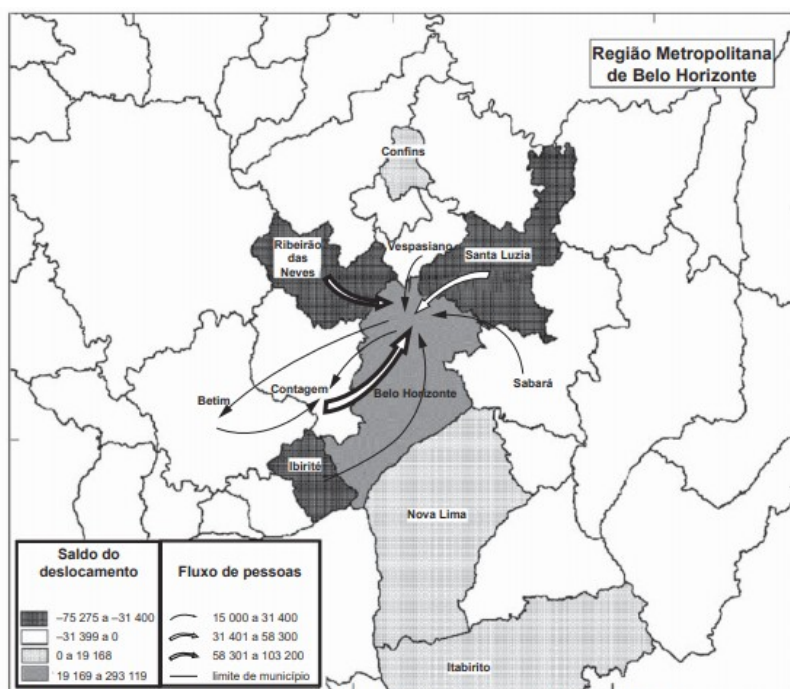
Mas, para que me conheçam  
 melhor Vossas Senhorias  
 e melhor possam seguir  
 a história de minha vida,  
 passo a ser o Severino

que em vossa presença emigra. [...]

Fonte: MELO NETO, João Cabral. Morte e vida Severina e Outros poemas. Rio de Janeiro: Objetiva, 2007.

Nesse trecho do poema Morte e Vida Severina (1954), o escritor João Cabral de Melo Neto retrata questões enfrentadas pelos sertanejos migrantes no passado, as quais ainda estão presentes nos dias atuais, sobretudo a partir do processo de Êxodo Rural. Sobre esse processo, apresente as suas principais características, consequências e influência no que tange o processo de Urbanização.

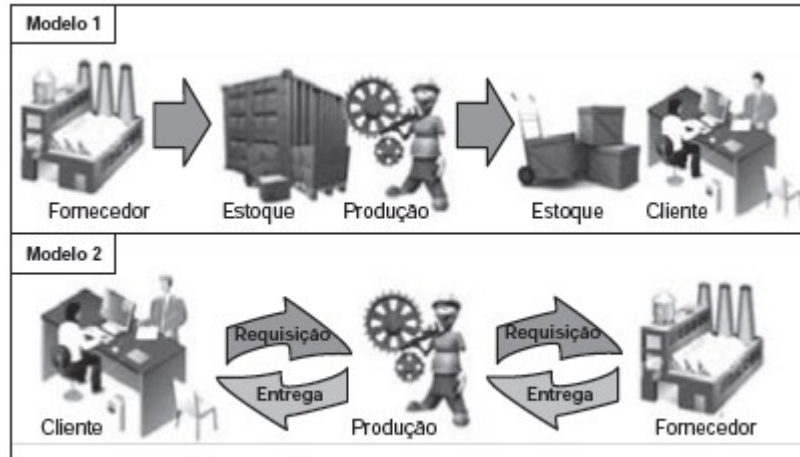
**Questão 09-** As regiões metropolitanas brasileiras são resultantes de processos urbanos que formam as cidades. Observe o mapa a seguir.



Nota: O saldo considera apenas as pessoas que se deslocavam para o trabalho e retornavam aos seus municípios diariamente.

O fluxo migratório representado está associado ao qual principal processo de crescimento das cidades? Quais são suas principais características?

**Questão 10-**



Disponível em: <http://ensino.univates.br>. Acesso em: 11 maio 2013 (adaptado).

Disponível em: <http://ensino.univates.br>. Acesso em: 11 maio 2013 (adaptado).

Na imagem, estão representados dois modelos de produção. Apresente as principais funções e diferenças de cada uma delas exemplificando pela imagem apresentada anteriormente.