

TRABALHO DE RECUPERAÇÃO 3º TRIMESTRE 2024

ALUNO (A): _____ TURMA: _____

VALOR: 16,0 Nota: _____

INSTRUÇÕES: Todas as questões devem ser respondidas a CANETA.**Questão 01-**

"Efeitos do bom governo na cidade e no campo", afresco de Ambrogio Lorenzetti (séc XIV)

Do mesmo modo que a cidade era uma figura particular das sociedades rurais no mundo medieval, atualmente, as zonas rurais são figuras particulares do universo urbano, diferenciando-se por certos aspectos da cidade propriamente dita, mas tornando-se comparáveis pelos modos de vida de seus habitantes."

(Jacques LÉVY. Réinventer la France [Reinventar a França]. Paris: Fayard. 2013, p. 53)

Tendo como referência o trecho citado, sobre o mundo urbano contemporâneo (considerado também o Brasil), quais as características do processo de urbanização brasileiro?

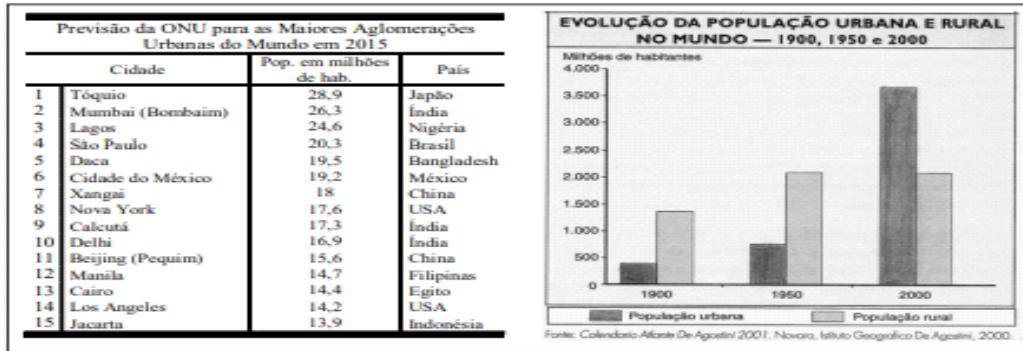
Questão 02- Observe a letra a seguir.

Minha vida é andar
Por esse país
Pra ver se um dia
Descanso feliz
Guardando as recordações
Das terras onde passei
Andando pelos sertões
E dos amigos que lá deixei

GONZAGA, L.; CORDOVIL, H. A vida de viajante, 1953. Disponível em: www.recife.pe.gov.br. Acesso em: 20 fev. 2012 (fragmento).

A letra dessa canção reflete elementos identitários que representam qual aspecto importante da urbanização?

Questão 03- Observe e compare o mapa da questão anterior com o gráfico e o quadro ao lado, e, com base na observação destes, assinale a leitura plausível a partir das referidas figuras e dados.



Julgue as afirmativas a seguir como V se verdadeiras e F se falsas.

() O século XX apresentou o mais rápido processo de urbanização conhecido pela humanidade, fazendo com que ao final deste período a população mundial já fosse, em sua maioria, urbana.

() Megacidades com mais de dez milhões de habitantes se concentram majoritariamente nos países onde o processo de industrialização clássica favoreceu a urbanização acelerada e uma rede urbana macrocefálica, não existindo em países subdesenvolvidos, por exemplo.

() Países subdesenvolvidos, em grande parte agrários, apresentam um crescimento mais acelerado das suas metrópoles que os países centrais mais urbanizados, motivo pelo qual o maior número de megacidades tende a se intensificar nesse grupo de países.

() O crescimento explosivo das cidades no terceiro mundo transfere a pobreza presente no campo para suas metrópoles, cujo crescimento é concomitante com a falta de infraestrutura, desemprego ou subemprego, aumento da violência, surgimento de favelas e outros tantos problemas geralmente denominados de urbanos. Imagem associada para resolução da questão

Questão 04- O sistema de transportes de um país é um dado do território que proporciona maior ou menor fluidez, dependendo de sua qualidade e quantidade.

As ferrovias brasileiras testemunharam o período pré-industrial do Brasil. Paradoxo histórico: o trem foi o maior símbolo da Revolução Industrial na Europa e nos Estados Unidos, enquanto aqui esteve a serviço da economia agrícola.

OLIVA, J.; GIANANTI, R. "Temas da Geografia do Brasil". São Paulo: Atual, 1999. p. 134.

Quando a industrialização brasileira se consolidou, o que aconteceu com as Ferrovias?

Questão 05- Observe a imagem a seguir.



Entre os séculos XIX e XX, uma nova forma de organização do trabalho se tornou comum. O fordismo-taylorismo fez evoluir a tal ponto o sistema produtivo que se passou a considerar que a Revolução Industrial (do século XVIII) estava passando por uma etapa de renovação.

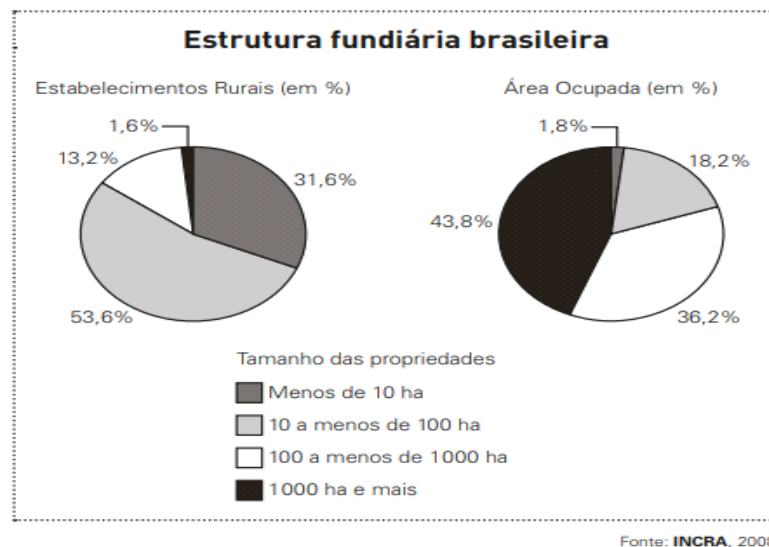
Quais são as principais características dos modelos de produção dessa época?

Questão 06- Subindo morros, margeando córregos ou penduradas em palafitas, as favelas fazem parte da paisagem de um terço dos municípios do país, abrigando mais de 10 milhões de pessoas, segundo dados do Instituto Brasileiro de Geografia e Estatística (IBGE).

MARTINS, A. R. A favela como um espaço da cidade. Disponível em: <http://www.revistaescola.abril.com.br>. Acesso em: 31 jul. 2010.

A situação das favelas no país reporta a graves problemas de desordenamento territorial. Nesse sentido, qual tem sido as principais características desse espaço?

Questão 07-



Quais as principais características que os gráficos representam?

Questão 08-Observe a charge a seguir:



Disponível em: <<https://josiasdesouza.blogosfera.uol.com.br/2019/10/18/desigualdade/>>. Acesso em: 05 set. 2020.

A charge apresenta duas realidades diferentes de países em um mesmo planeta: o primeiro está relacionado aos países desenvolvidos e o segundo aos países subdesenvolvidos. Os dois possuem características específicas que explicam como organizaram o seu território a partir da Industrialização e Urbanização. Explique a diferença do processo de Industrialização entre esses tipos de países e quais as principais consequências urbanas resultantes desse processo.

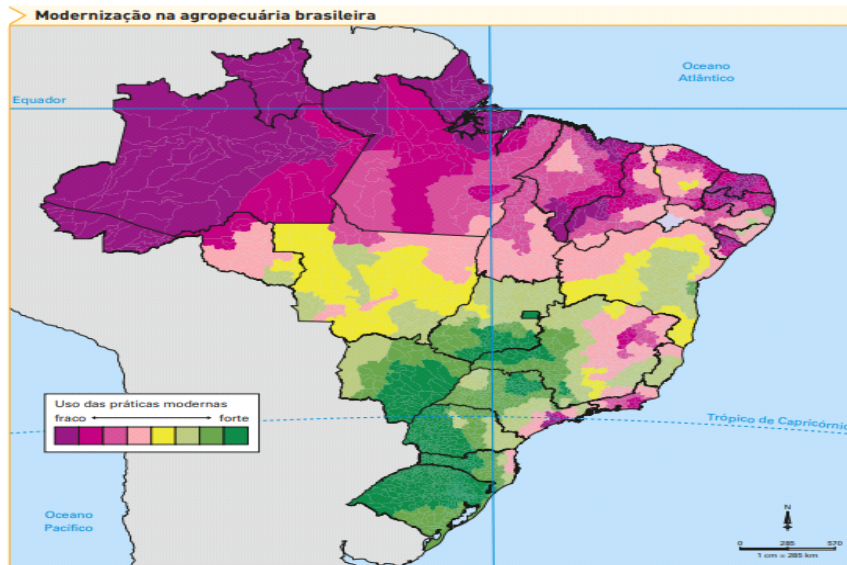
Questão 09- Leia o texto a seguir:

[...]
 Somos muitos Severinos
 iguais em tudo e na sina:
 a de abrandar estas pedras
 suando-se muito em cima,
 a de tentar despertar
 terra sempre mais extinta,
 a de querer arrancar
 algum roçado da cinza.
 Mas, para que me conheçam
 melhor Vossas Senhorias
 e melhor possam seguir
 a história de minha vida,
 passo a ser o Severino
 que em vossa presença emigra. [...]

Fonte: MELO NETO, João Cabral. Morte e vida Severina e Outros poemas. Rio de Janeiro: Objetiva, 2007.

Nesse trecho do poema Morte e Vida Severina (1954), o escritor João Cabral de Melo Neto retrata questões enfrentadas pelos sertanejos migrantes no passado, as quais ainda estão presentes nos dias atuais, sobretudo a partir do processo de Êxodo Rural. Sobre esse processo, apresente as suas principais características, consequências e influência no que tange o processo de Urbanização.

Questão 10-



Adaptado de THÉRY, Hervé; MELLO, Neli. Atlas do Brasil: *disparidades e dinâmicas do território*. São Paulo: Edusp/Imprensa Oficial, 2008.

No Brasil, o setor agropecuário se caracteriza tanto por áreas que ainda adotam práticas tradicionais como por aquelas em que há forte presença de modernização, como se observa no mapa.

Aponte o complexo regional que concentra o uso mais intenso de práticas agropecuárias modernas e a que concentra o uso menos intenso. Em seguida, cite duas características presentes no processo de modernização agropecuária do país.

Questão 11- Após a Segunda Guerra Mundial, além de se formarem os grandes blocos, diversos países se reuniram em organizações geopolíticas e econômicas, constituindo blocos econômicos regionais de diversos tipos.

Fonte: TERRA, L. e COELHO, M. de A. Geografia Geral e Geografia do Brasil: O espaço natural e socioeconômico. São Paulo: Moderna, 2005.

Considerando a integração econômica que ocorre no interior dos blocos regionais, relacione as colunas.

- 1) Mercado Comum
- 2) Zona de livre comércio
- 3) União aduaneira
- 4) União Econômica e monetária

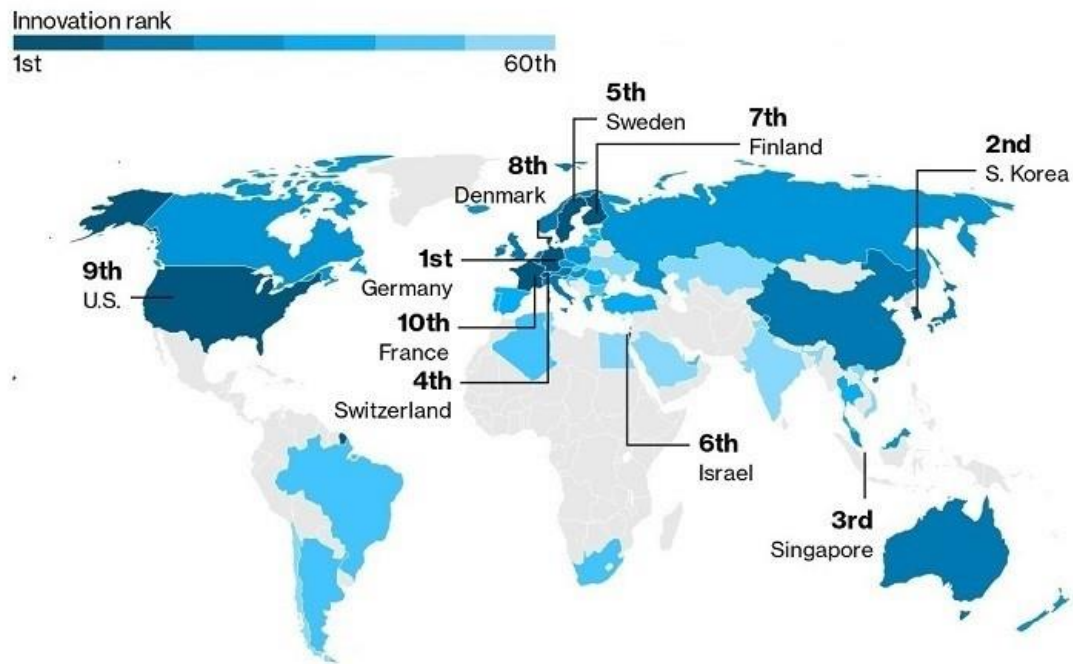
() Circulação de bens com taxas alfandegárias reduzidas ou eliminadas. Essa ampliação busca padronizar leis trabalhistas, legislações econômicas, além da livre circulação de pessoas. Além disso, empresas nacionais podem expandir seus negócios, instalando-se em qualquer um dos países do bloco que está nesse nível de integração.

() trata-se de uma evolução da zona livre de comércio. Além da liberação das mercadorias e produtos, é estabelecida uma Tarifa Externa Comum (TEC) aos países de fora do bloco. Isso significa que, quando um país do bloco negociar com outro país que não pertença ao bloco, haverá uma taxa de importação padronizada, igual para todos os que participam da integração econômica.

() Os países unem-se para a liberação gradual de mercadorias e capitais dentro dos limites territoriais do bloco. É uma integração tímida, visando apenas aos produtos e aos lucros obtidos nessa produção.

() Conforme as relações se intensificam e avançam, o bloco econômico pode chegar ao seu estágio máximo e completo: a adoção de uma moeda única e criação de um banco central do bloco.

Questão 12- Observe o mapa, intitulado "A geografia da inovação e da realização tecnológica", e responda ao que se pede.



Centros mundiais de inovação tecnológica

Em 2000, a revista Wired consultou fontes locais nos governos, indústria e meios de comunicação social, para encontrar as localizações mais importantes na nova geografia digital. Cada uma foi classificada de 1 a 4, em quatro áreas: a capacidade das áreas universitárias e das instalações de investigação para formar trabalhadores qualificados ou desenvolver novas tecnologias, a presença de companhias e de grandes empresas multinacionais para fornecer competências e estabilidade econômica, o impulso empresarial da população para iniciar novas aventuras e a disponibilidade do capital de risco para assegurar que as ideias se orientam para o mercado. Quarenta e seis locais foram identificados como centros tecnológicos, identificados no mapa com círculos pretos.

Fonte: ONU/PNUD. Relatório do desenvolvimento humano 2001: novas tecnologias e desenvolvimento humano.

A relação de acessos a tecnologia e disseminação dela em fluxos e redes está diretamente associado com um fenômeno geográfico que está presente no mundo todo. Qual é este fenômeno? Apresente suas principais características.

Questão 13- Leia as características geográficas dos países X e Y.

País X

- desenvolvido
- pequena dimensão territorial
- clima rigoroso com congelamento de alguns rios e portos
- intensa urbanização
- auto-suficiência de petróleo

País Y

- subdesenvolvido
- grande dimensão territorial
- ausência de problemas climáticos, rios caudalosos e extenso litoral
- concentração populacional e econômica na faixa litorânea
- exportador de produtos primários de baixo valor agregado

A partir da análise dessas características é adequado priorizar as diferentes modalidades de transporte de carga. Apresente os tipos de modais mais viáveis para aplicar no País X e no País Y, respectivamente.

Questão 14-China é vista como a principal economia mundial

A China já é percebida em grande parte do mundo como a principal economia mundial, embora na realidade seja a segunda, atrás dos Estados Unidos. Segundo pesquisa de opinião publicada pela imprensa chinesa, na qual foram ouvidas por telefone mais de 26 mil pessoas de 21 países, 41% disseram que a China é a maior potência econômica mundial, enquanto 40% acreditam que são os Estados Unidos. A tendência a favor dessa imagem da China é especialmente forte na Europa, onde 58% dos britânicos têm essa percepção.

Adaptado de , 14/06/2012.

Com elevadas taxas de crescimento em seu Produto Interno Bruto nos últimos anos, a China confirma sua posição de destaque nos cenários político e econômico mundiais. Indique dois fatores que impulsionaram esse grande avanço da economia chinesa.

Questão 15- Observe a imagem a seguir.

Explique por que o MERCOSUL, apesar de pretender se tornar um Mercado Comum, ainda é considerado uma União Aduaneira.

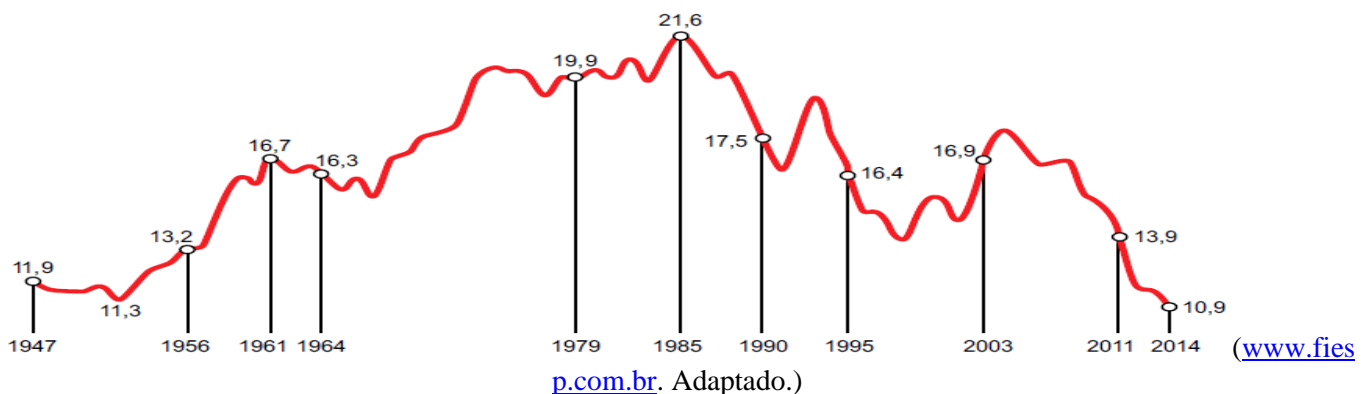
Questão 16- Os problemas urbanos socioambientais estão se tornando cada vez mais prevalentes nas cidades ao redor do mundo. Escolha uma cidade com a qual você esteja familiarizado ou que seja de seu interesse e discuta os principais problemas socioambientais que ela enfrenta atualmente. Analise como esses problemas afetam a qualidade de vida dos habitantes, a saúde pública e o meio ambiente. Além disso, proponha soluções ou estratégias que podem ser implementadas para minimizar esses desafios urbanos.

Questão 17- Considere as seguintes afirmações sobre a Revolução Industrial, julgue as afirmativas como V se verdadeiras e F se falsas.

- () Durante sua primeira fase, a indústria têxtil, cujo epicentro estava na Inglaterra, foi predominante em termos de emprego e de investimento de capital.
- () Nos países de industrialização acelerada, como a Inglaterra e os Estados Unidos da primeira metade do século XIX, a intensa exploração do trabalho infantil e feminino contribuiu para o aumento de produtividade das indústrias locais.
- () a primeira metade do século XIX, o aumento da produção industrial de têxteis ocasionou a expansão da produção de algodão e da utilização do trabalho escravo em larga escala no Sul norte-americano.

Questão 18- Observe o gráfico.

Participação da indústria de transformação no PIB do Brasil, 1947-2014.



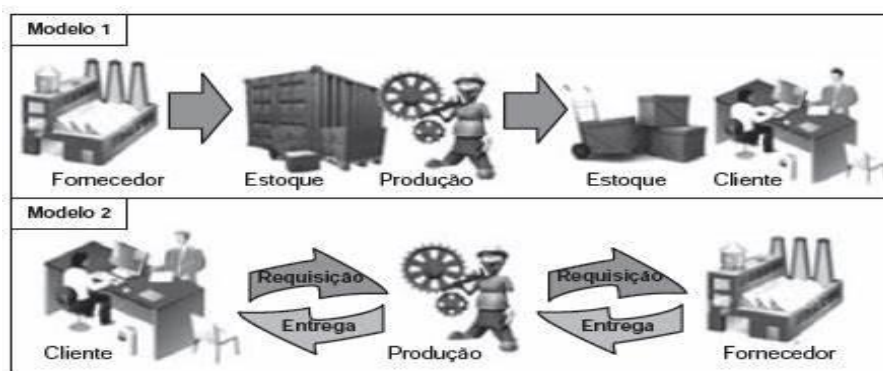
Considerando os dados do gráfico e conhecimentos sobre a dinâmica econômica do país. Apresente as principais características da evolução industrial brasileira ao longo dos anos.

Questão 19- - Observe a imagem a seguir.



O que foi a Doutrina Bush? Explique os princípios gerais defendidos por ela.

Questão 20-



Disponível em: <http://ensino.univates.br>. Acesso em: 11 maio 2013 (adaptado).

Na imagem, estão representados dois modelos de produção. A possibilidade de uma crise de superprodução é distinta entre eles. Apresente as principais diferenças entre os dois tipos de produção apresentados nas imagens.
