

TRABALHO DE ESTUDOS AUTÔNOMOS 2º TRIMESTRE 2024

ALUNO (A): _____ TURMA: _____

VALOR: 12,0 Nota: _____

INSTRUÇÕES: Todas as questões devem ser respondidas a CANETA.

QUESTÃO 01.



Disponível em: <<https://josiasdesouza.blogosfera.uol.com.br/2019/10/18/desigualdade/>>. Acesso em: 05 set. 2020.

A charge apresenta duas realidades diferentes de países em um mesmo planeta: o primeiro está relacionado aos países desenvolvidos e o segundo aos países subdesenvolvidos. Os dois possuem características específicas que explicam como organizaram o seu território a partir da Industrialização e Urbanização. Explique a diferença do processo de Industrialização entre esses tipos de países e quais as principais características urbanas resultantes desse processo Industrial.

QUESTÃO 02- Observe a charge a seguir.

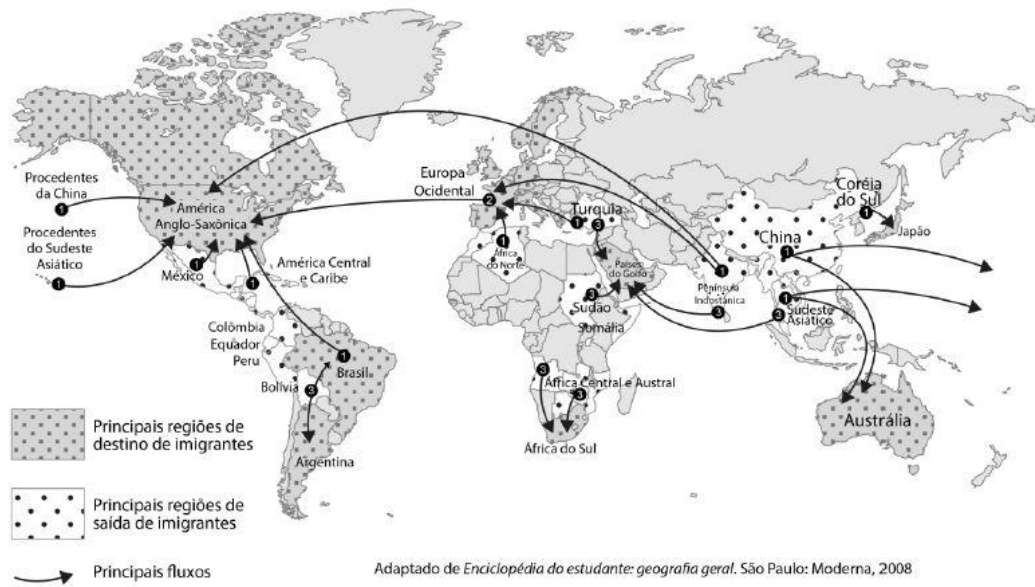


Artista: Anítoro. Fonte: <http://www.anitoro.com.br>

Discuta os desafios e oportunidades apresentados pela rápida urbanização nos países em desenvolvimento. Como a urbanização afeta os aspectos sociais, econômicos e ambientais dessas nações e quais estratégias podem ser implementadas para garantir o desenvolvimento urbano sustentável?

QUESTÃO 03- Analise o mapa a seguir:

Principais fluxos migratórios no final do século XX e início do século XXI



Examine os impactos socioeconômicos e culturais da migração internacional nos países de origem e de destino. Discuta os fatores que impulsionam a migração e analise as oportunidades e desafios enfrentados pelos migrantes e pelas comunidades de acolhimento.

QUESTÃO 04. Observe a imagem a seguir.



A imagem retrata um fenômeno do processo de Urbanização na qual ocorre uma espécie de “limpeza do espaço”. Com base nos seus conhecimentos, defina qual o nome desse processo e em seguida analise o conceito e seu impacto nas comunidades urbanas. Discuta as mudanças sociais, econômicas e culturais, incluindo o deslocamento de moradores de baixa renda, a transformação de bairros e os efeitos nos negócios locais e no patrimônio cultural.

QUESTÃO 05.

O meu pai era paulista
Meu avô, pernambucano
O meu bisavô, mineiro
Meu tataravô, baiano
Vou na estrada há muitos anos
Sou um artista brasileiro

CHICO BUARQUE. Paratodos. 1993. Disponível em: www.chicobuarque.com.br. Acesso em: 29 jun. 2015 (fragmento).

A característica familiar descrita diz respeito ao qual característica populacional? Disserte sobre ela.

QUESTÃO 06-**Centros mundiais de inovação tecnológica**

Em 2000, a revista Wired consultou fontes locais nos governos, indústria e meios de comunicação social, para encontrar as localizações mais importantes na nova geografia digital. Cada uma foi classificada de 1 a 4, em quatro áreas: a capacidade das áreas universitárias e das instalações de investigação para formar trabalhadores qualificados ou desenvolver novas tecnologias, a presença de companhias e de grandes empresas multinacionais para fornecer competências e estabilidade econômica, o impulso empresarial da população para iniciar novas aventuras e a disponibilidade do capital de risco para assegurar que as ideias se orientam para o mercado. Quarenta e seis locais foram identificados como centros tecnológicos, identificados no mapa com círculos pretos.

Fonte: ONU/PNUD. Relatório do desenvolvimento humano 2001: novas tecnologias e desenvolvimento humano.

A relação de acessos a tecnologia e disseminação dela em fluxos e redes está diretamente associado com um fenômeno geográfico que está presente no mundo todo. Qual é este fenômeno? Apresente suas principais características.

QUESTÃO 07-

A Regionalização Socioeconômica está associada às consequências das desigualdades sociais e econômicas do mundo globalizado. Levando em consideração essa divisão mundial, quais são as principais características que difere os países do Norte e países do Sul?

QUESTÃO 08- Os Blocos Econômicos correspondem a união de países de uma mesma região para fomentar o crescimento econômico e social.

Quanto aos principais Blocos Econômicos mundiais, associe a primeira coluna com a segunda coluna.

() MERCOSUL.

() União Europeia.

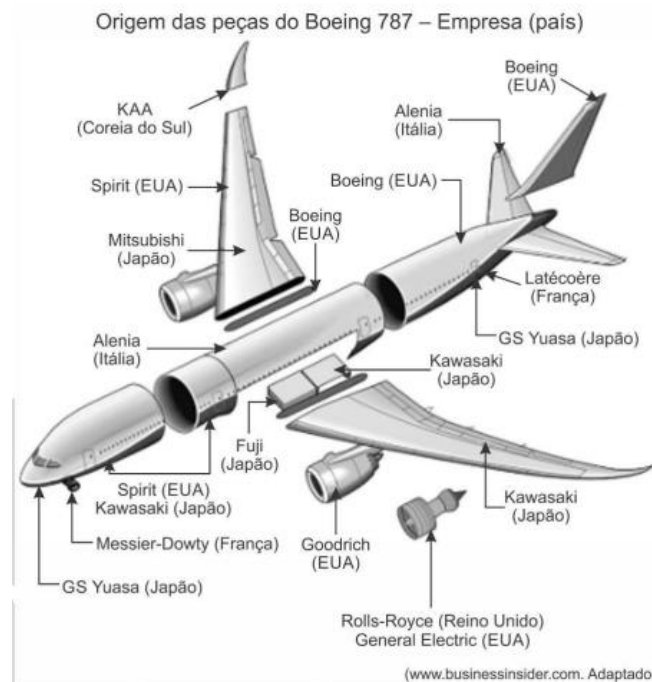
() NAFTA.

() É considerado um Megabloco, sendo o maior Bloco Econômico do mundo. A principal característica é a moeda única, o euro. Hoje, é a mais forte do mundo, apesar do dólar ainda ser a referência.

() É o Tratado Norte-Americano de Livre Comércio, que inclui os 3 países da América do Norte: Canadá, México e Estados Unidos. Apresenta vantagens no acesso aos mercados

() Criado em 1991, o Mercado Comum do Sul é formado por Argentina, Brasil, Paraguai, Uruguai e Venezuela. Ainda existem outros Estados associados. Eles são Bolívia, Chile, Colômbia, Equador, Guiana, Peru e Suriname. É um grupo que estabelece uma união aduaneira.

QUESTÃO 09-










Considerando o exemplo apresentado e a expansão das multinacionais no contexto da globalização, identifique e caracterize o que ocorre com o processo produtivo das multinacionais. Cite dois fatores que levam as empresas a adotar essa nova estratégia.

QUESTÃO 10-










Ranking de desenvolvimento humano

Veja a posição do Brasil em relação a outros países

Desenvolvimento humano 'muito alto'

1º		Noruega	0,954
2º		Suíça	0,946
3º		Irlanda	0,942
4º		Alemanha	0,939
4º		Hong Kong (China)	0,939
6º		Austrália	0,938
6º		Islândia	0,938

Países próximos da faixa do Brasil

75º		Bósnia e Herzegovina	0,769
76º		México	0,767
77º		Tailândia	0,765
78º		Granada	0,763
79º		Brasil	0,761
79º		Colômbia	0,761
81º		Armênia	0,760
82º		Argélia	0,759
82º		Macedônia do Norte	0,759

Em seu Relatório de Desenvolvimento Humano divulgado em setembro de 2018, o PNUD demonstrou que no Ranking dos países mais bem colocados, em relação ao indicador do IDH, a Noruega é o que mais apresenta um desenvolvimento “Muito Alto” e o Brasil ocupa a posição 79. A partir dessas observações, apresente uma comparação entre a Noruega e o Brasil justificando a diferença de desenvolvimento entre eles junto com os principais critérios avaliativos do IDH.
